

ぶん やとく ていぎ の う ごう ひょう か し けん
ビルクリーニング分野特定技能1号評価試験

はん だん し けん もん だ い よ う し
判断試験 問題用紙

じゅ けん ばん ごう 受験番号	
な ま え 名前	

- (1) 試験時間は、20分間です。
- (2) 問題用紙と解答用紙に、受験番号と名前を書いてください。
- (3) 答えは、解答用紙に正しいと思う写真またはイラストの「数字(1, 2・・・)」を1つ選び、書いてください。
- (4) わからない時は手をあげてください。ただし、言葉の意味や答えについては教えることができません。
- (5) 試験中は携帯電話を使えません。電源を切ってカバンにしまってください。
- (6) 試験中は他の受験者の答えを見たり、話をしたりしてはいけません。
- (7) 問題用紙と解答用紙は持ち帰ることはできません。

問1. ダストクロス型モップ (乾式) の写真を1つ選びなさい

問2. 自在ぼうきの写真を1つ選びなさい

問3. 文化ちりとりの写真を1つ選びなさい

問4. 床磨き機 (ポリッシャー) 本体の写真を1つ選びなさい

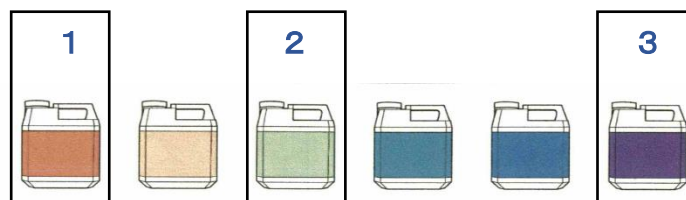
問5. 吸水バキュームの写真を1つ選びなさい

問6. 送風機の写真を1つ選びなさい

問7. 青色のパッドの写真を1つ選びなさい











問8. 中性洗剤を示すイラストを1つ選びなさい











pH 0 ————— 14

問9. 床面の清掃作業について、正しい順番を表している方を選びなさい

1		→		→		→	
	作業標示板の設置		ダストクロスで除塵		モップで拭く		ゆかみが床磨き機で洗浄
2		→		→		→	
	作業標示板の設置		ダストクロスで除塵		ゆかみが床磨き機で洗浄		モップで拭く

問10. 床磨き機の片付けについて、正しい順番を表している方を選びなさい

1		→		→		→	
	コンセントを抜く		パッド台を外す		ゆかみが床磨き機の本体を拭く		コードを巻く
2		→		→		→	
	ゆかみが床磨き機の本体を拭く		パッド台を外す		コンセントを抜く		コードを巻く

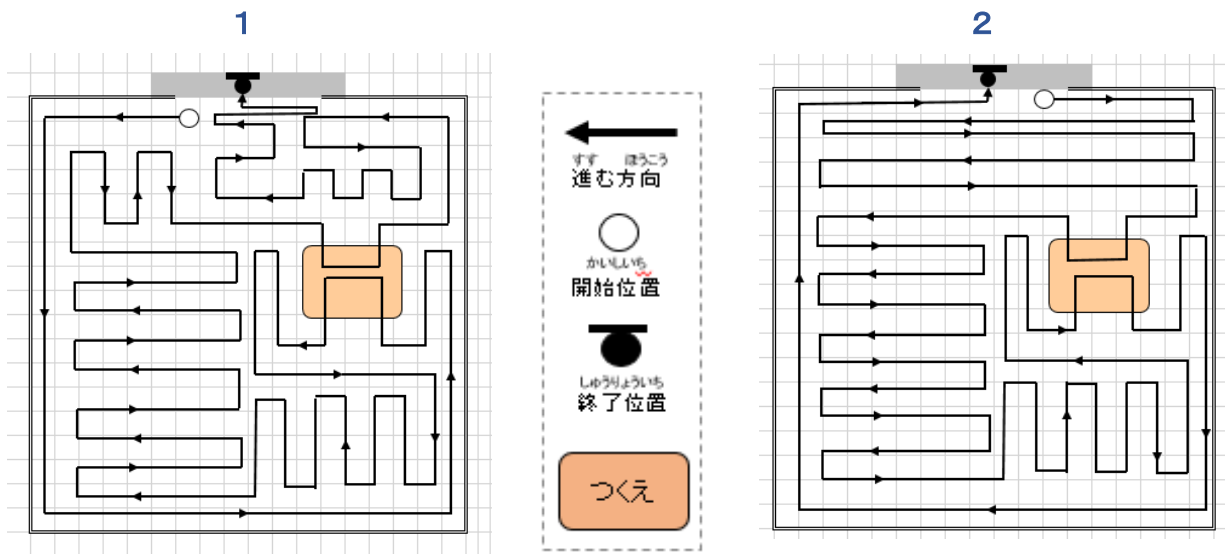
問11. 衛生陶器の清掃作業について、正しい順番を表している方を選びなさい

1		→		→		→	
	保護手袋を装着する		便器ボウルの洗浄		便器の外側を拭く		便座を拭く
2		→		→		→	
	便座を拭く		保護手袋を装着する		便器の外側を拭く		便器ボウルの洗浄

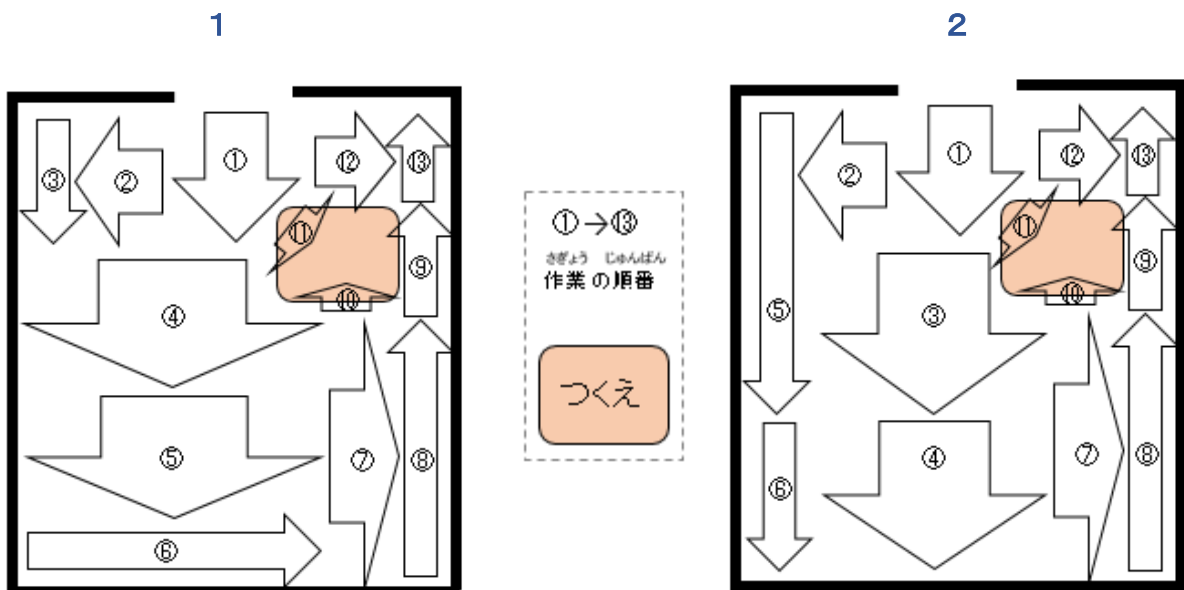
問12. 衛生陶器の清掃作業について、保護手袋を装着して作業する箇所を1つ選びなさい




問13. 床磨き機の作業動線について、正しいイラストを1つ選びなさい




問14. 吸水バキュームの作業動線について、正しいイラストを1つ選びなさい



問15. プラグの抜き方について、正しい写真を1つ選びなさい



問16. お客様がトイレを使用していることがあります。清掃するためにトイレに入るときはどのようにいたしますか。最も適切な対応を1つ選びなさい



問17. トイレ清掃中に、お客様が入ってきました。どのようにいたしますか。最も適切な対応を1つ選びなさい

